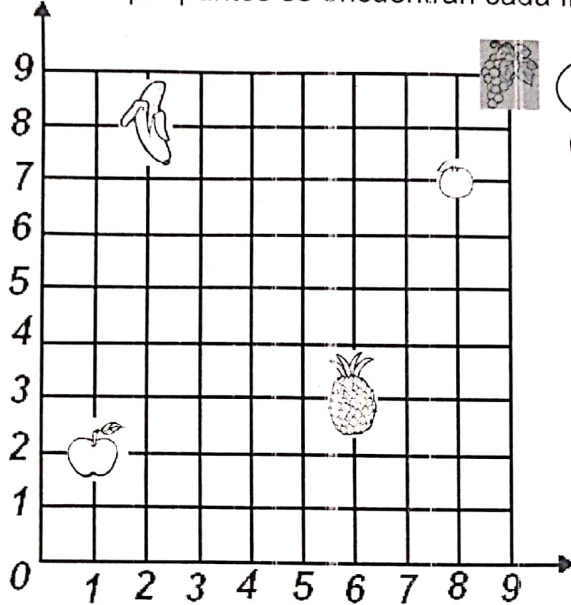


UNIDAD 07: "Celebremos nuestro aniversario"
Plano cartesiano

Nombres y apellidos: Renzo Marino Fecha: / / 20


I. Lee las instrucciones y haz lo que se te pide.

a) Ubica en que puntos se encuentran cada fruta.

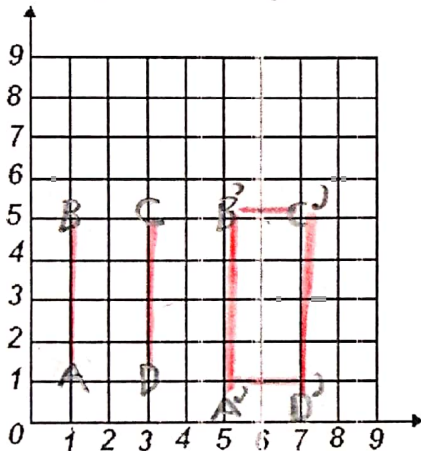


Recuerda:
1° Son las abscisas y ordenadas
2° cada figura está ubicada en un punto que es la intersección.

- Plátano (...2...8...)
- Piña (...6...3...)
- Manzana (...1...2...)
- Naranja (...8...9...)
- Uva (...9...9...)

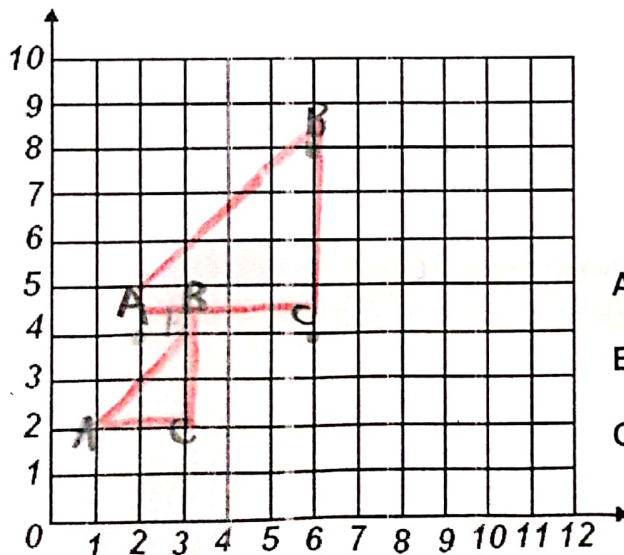


b) Ubica los puntos y halla la figura, luego **TRASLADALA** sumando 4 unidades al primer componente y **traza** las figuras con rojo.



- A (1, 1) A' (5 , 1)
- B (1, 5) B' (5 , 5)
- C (3, 5) C' (7 , 5)
- D (3, 1) D' (7 , 1)

c) Ubica los puntos, encuentra la figura, luego **AMPLIALA**, dando las nuevas coordenadas. Hazlo con rojo.



- A (1, 2) A' (2 , 4)
- B (3, 4) B' (6 , 8)
- C (3, 2) C' (6 , 4)