

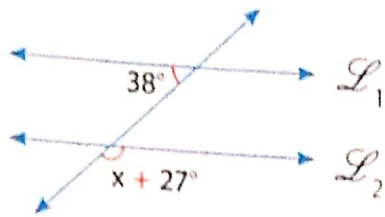
Busca soluciones

Resuelve los siguientes ejercicios de forma individual:

Nivel 1

1. Calcula el valor de "x", si $L_1 \parallel L_2$.

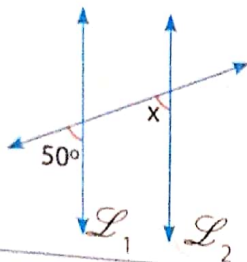
a.



Resolución:

Rpta.: _____

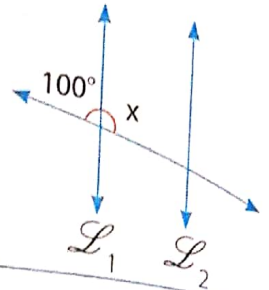
b.



Resolución:

Rpta.: _____

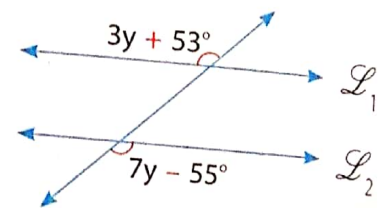
c.



Resolución:

Rpta.: _____

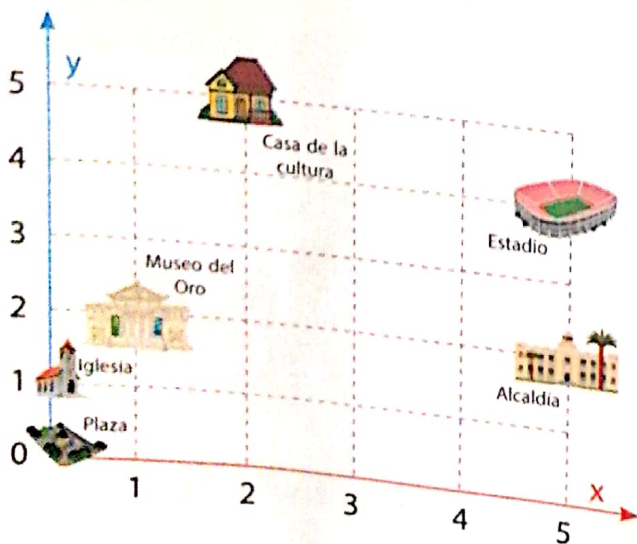
d.



Resolución:

Rpta.: _____

5. De acuerdo al gráfico, responde.



a. ¿Qué lugar se encuentra más lejos de la plaza?

El estadio

b. ¿En qué coordenada se localiza la alcaldía?

En (5;2)

c. ¿En qué lugar del plano cartesiano se ubica el estadio?

Superior y Derecha